


PRACOVNÍ LIST





OBEČNÁ ČÁST

GEOGRAFIE:

1. Podívejte se na mapu a vyznačte hranice státu Izrael takto:

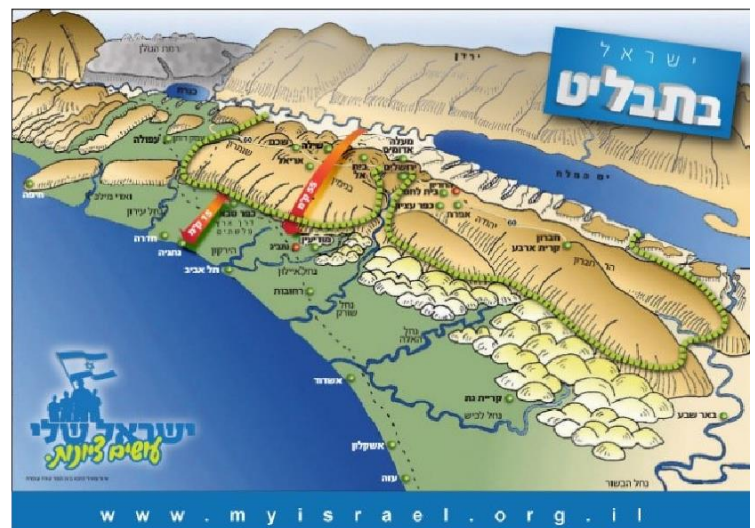
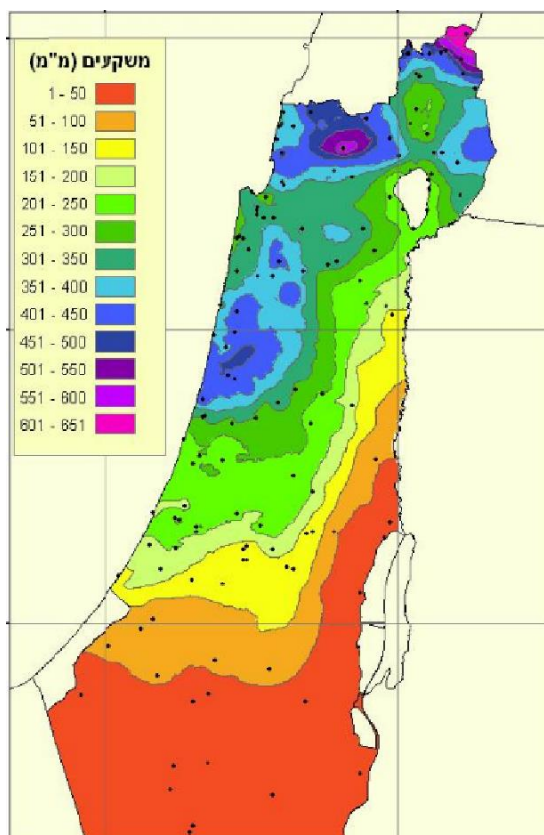
- hranice se spřátelenými státy modře
- střežené hranice červeně






OBEČNÁ ČÁST

Podívejte se na topografické a klimatické mapy níže:



2. Kde je nejvyšší hustota obyvatelstva?
3. Jaké sociální problémy mohou vzniknout z topografické, klimatické a sociální situace?
4. Jaké jsou dvě geografické výzvy, kterým čelí Izrael?



OBEČNÁ ČÁST

EKONOMIKA:

5. Označte odpověď - správně nebo špatně

- Izraelská ekonomika je převážně centralizovaná, jen malá část je v soukromých rukou. správně / špatně
- Technologický průmysl je důležitou součástí izraelské ekonomiky. správně / špatně
- Izraelská měna je euro. správně / špatně
- Občané Izraele musí platit Národní pojištění. správně / špatně
-

6. zakroužkujte výrobky typické pro izraelský průmysl:





OBEČNÁ ČÁST

SVÁTKY A TRADICE:

7. V Izraeli se židovské svátky určují podle židovského kalendáře vypočteného podle:

- A. Měsíčního cyklu
- B. Slunečního cyklu

8. Obvyklý den odpočinku v Izraeli je?

- A. Neděle
- B. Pátek
- C. Sobota



OBEČNÁ ČÁST

PRÁVO:

9. Podle zákona jsou manželství a rozvody v Izraeli povoleny:

- A. Soudcem
- B. Zástupcem obce
- C. Náboženským představitelem - duchovním


10. Jaké jsou oficiální jazyky ve státě Izrael?

Angličtina Ruština Hebrejština Francouzština Arabština Aramejština
Španělština

VZDĚLÁVÁNÍ:

11. Má Izrael zákon o povinném vzdělávání?

- A. Pouze pro chlapce
- B. Do ukončení základní školy
- C. Pro všechny od 5 do 18 let



OBEČNÁ ČÁST

ŽIDOVSKÉ NÁBOŽENSTVÍ:


12. Které potraviny jsou podle židovských náboženských dietních zákonů zakázány? Zakroužkujte správnou odpověď (odpovědi)

Krevety; Slanina; Humus; Hamburger se sýrem; Grilované kuře;
Sýr; Zeleninový salát

SPORT:

13. Jaký je nejoblíbenější sport v Izraeli?





OBEČNÁ ČÁST


PORODNOST:

14. Izrael je známý jako země, která podporuje porodnost. Uved'te dva příklady politiky podporující porodnost.

15. Uspořádejte následující skupiny podle počtu dětí (od nejvyššího).

- Židé
- Muslimové
- Drúzové

16. Překvapivě, i přes politiku podpory porodnosti, v Izraeli jsou ukončení těhotenství legální. Co je povinností žen, které chtějí ukončit těhotenství?



OBECNÁ ČÁST

MULTIKULTURNÍ STRUKTURA V IZRAELI:

Izrael je rozdělen do dvou hlavních skupin. 20 % tvoří Arabové a 80 % Židé.

17. Které podskupiny jsou součástí arabské skupiny?

18. Ze kterých velkých zemí pocházejí členové židovské skupiny?

19. Uved'te dva rozdíly mezi oběma skupinami.