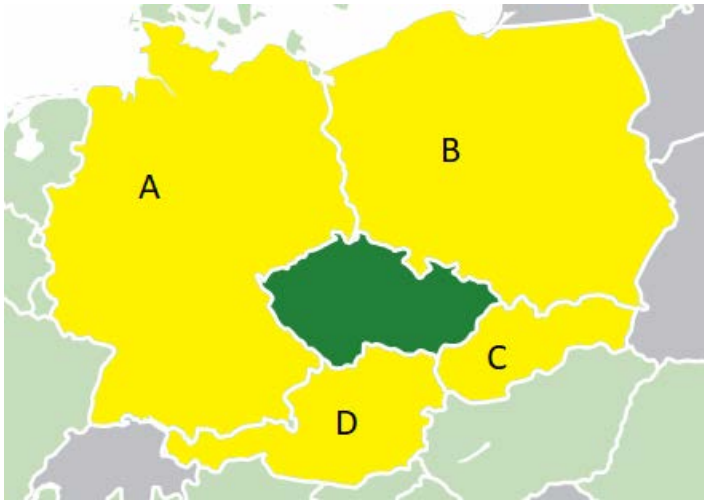


## Worksheet







### ÇEK CUMHURİYETİ – GENEL BÖLÜM

1)Çek cumhuriyetine komşu ülkelerin adlarını yazınız.



A	
B	
C	
D	

2)Çek Cumhuriyeti devlet sembollerini tamamlayınız.

		
A	B	C
		
D	E	F



Co-funded by the  
Erasmus+ Programme  
of the European Union

3) Hangi dağlar Çek Cumhuriyetinde yer almamaktadır?

A	The Alps	B	The Krušné hory Mount.	C	The Krkonoše Mount.
D	The Šumava Mountains	E	The Tatra Mount.	F	The Jeseníky Mount.

4) Tarihi bakış açısına göre Çek Cumhuriyeti hangi 3 bölgeden oluşmaktadır?

.....

5) Çek tarihindeki en önemli yöneticinin adını seçiniz.

A	Charles IV	B	Wenceslas IV	C	John of Luxembourg
---	------------	---	--------------	---	--------------------

6) Çek Cumhuriyeti hangi yıllarda Alman ordusu tarafından işgal edilmiştir?

7) Komünist rejimi deviren devrime şu ad verilir:

A	Satin devrimi	B	Velvet devrimi	C	Plush devrimi
---	---------------	---	----------------	---	---------------

devrimi

8) 1. 1. 1993 tarihinde hangi belirgin olay olmuştur? .....

.....

9) Hangi iki meclis Çek Cumhuriyeti parlamantosunu oluşturmaktadır?

10) Çek Cumhuriyetinde yürütme gücü şunlara ayrılmıştır (seçiniz):

- A. Cumhur Başkanı ve senato
- B. Cumhur Başkanı ve parlamanto
- C. Cumhur Başkanı ve hükümet

11) Çek Cumhur başkanı seçme süresi (seçiniz):

A	4 yıl	B	5 yıl	C	6 yıl
---	-------	---	-------	---	-------



Co-funded by the  
Erasmus+ Programme  
of the European Union

12) Bunlardan hangileri sol görüşü siyasi partilerden değildir. (seçiniz):

A	ODS	B	KSČM	C	TOP09
---	-----	---	------	---	-------

13) Çek Cumhuriyetinde asgari ücret ne kadardır?( 2018' den beri)?

A	330 €	B	823 €	C	488 €
---	-------	---	-------	---	-------

14) Çek Cumhuriyeti'nin en önemli ürünleri arasında (seçiniz):

A	Cam ve porselen	B	bira - Budvar, Plzeň	C	Bitki likörü Becher
---	-----------------	---	----------------------	---	---------------------

15) Çek Cumhuriyetindeki en önemli araba fabrikası .....

16) Çek Cumhuriyetinde kilise baskın güce sahiptir .....

17) Hristiyan inancının en çok kullanılan sembolü (seçiniz):

A	Tespah	B	Haç	C	İncil
---	--------	---	-----	---	-------

18) Çek Cumhuriyeti'nde Noel'de hediyeleri kim getirir? (tamamlayınız)? .....

19) En önemli Hristiyan tatiline ..... denir.

20) Paskalya pazartesi daha çok ..... tuttuğumuz , sakladığımız gündür (seçiniz): ....

A	halk (pagan) kostümleri	B	Hristiyan kostümleri
---	-------------------------	---	----------------------

21) Çek Cumhuriyetindeki ebeveyn yardımı miktarı .....dır ve bu miktar ..... e kadar düzenlebilir ..... (çoğunun yaşını yazınız):

22) Çek Cumhuriyetindeki tatilleri doğru tarihler ile eşleştiriniz.



Co-funded by the  
Erasmus+ Programme  
of the European Union

Zafer Günü	28. 10.
Cyril ve Methodius'dan sakınma Slav ırkı günü	24.12.
John Hus'un yanma Günü	8. 5.
Devlet olma günü	6.7.
Çekoslovak devletinin bağımsızlık günü	1. 5.
Özgürlük ve demokrasi için mücadele günü	25.12.
Noel arifesi	5. 7.
Noel Günü	17. 11.
İşçi Günü	28. 9.

23))Çek Cumhuriyeti'nde kayıtlı bir ortaklığı bitirmek mümkündür:

A	EVET	B	HAYIR
---	------	---	-------

24) Çek'lerin sağlığına en çok zarar veren faktörler arasında her şeyden önce : (en az 4 etken yazınız):

.....  
.....  
.....  
.....

25)Çek Cumhuriyeti'nde temel eğitime katılma süresi ner kadardır? (yıl sayısını yazınız):

.....

26) Çek Cumhuriyeti'nde yükseköğretim üç aşamada gerçekleştirilmektedir. (yazınız):

27)Çek mutfağının 3 geleneksel yemğini yazınız:

28)Çeklerin milli sporlarından en az 2 tanesini yazınız:.....

29)Çek Cumhuriyeti'nde ortalama yaşam süresi ne kadardır?

A	79 yıl	B	82 yıl	C	75yıl
---	--------	---	--------	---	-------

30) Resimlerdeki kızlardan hangileri geleneksel Çek kıyafeti olan (Moravian) giyiyor?



A



B



C