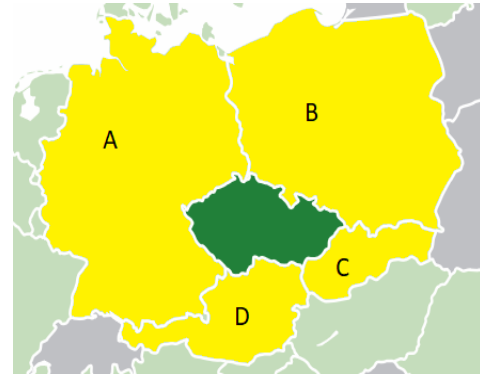


ΦΥΛΛΟ ΕΡΓΑΣΙΑΣ







ΤΣΕΧΙΑ – ΓΕΝΙΚΟ ΜΕΡΟΣ

1) Συμπληρώστε τα ονόματα των χωρών που συνορεύουν με την Τσεχία

A	
B	
C	
D	



2) Συμπληρώστε τα κρατικά σύμβολα της Τσεχίας

		
A	B	C
		
D	E	F



Co-funded by the
Erasmus+ Programme
of the European Union

- 3) Ποια βουνά δεν βρίσκονται μέσα στο έδαφος της Τσεχίας;
 - A) Άλπεις
 - B) Krusne hory
 - C) Krkonose
 - D) Sumava
 - E) Tatra
 - F) Jeseniky
- 4) Ποιες 3 ιστορικές περιοχές απαρτίζουν την Τσεχία;
- 5) Επιλέξτε το όνομα του πιο διάσημου ηγεμόνα στην ιστορία της Τσεχίας
 - A) Κάρολος IV
 - B) Βέντσεσλας IV
 - C) Ιωάννης του Λουξεμβούργου
- 6) Ποια χρονιά κατέλαβε ο Γερμανικός στρατός την Τσεχία;
- 7) Πως ονομάζεται η επανάσταση που κατέρριψε το κομμουνιστικό καθεστώς;
 - A) Σατέν
 - B) Βελούδινη
 - C) Λούτρινη
- 8) Ποιο σημαντικό γεγονός συνέβη την 1/1/1993;
- 9) Από ποια 2 σώματα αποτελείται η Βουλή της Τσεχίας;
- 10) Η εκτελεστική εξουσία στην Τσεχία διαιρείται σε(επιλέξτε):
 - A) Πρόεδρο της Δημοκρατίας και Γερουσία
 - B) Πρόεδρο της Δημοκρατίας και Βουλή
 - C) Πρόεδρο της Δημοκρατίας και Κυβέρνηση
- 11) Ο Πρόεδρος της Τσεχικής Δημοκρατίας εκλέγεται για περίοδο ____ ετών
 - A) 4
 - B) 5
 - C) 6
- 12) Ποια από αυτά δεν είναι κόμματα της Αριστεράς (επιλέξτε):
 - A) ODS
 - B) KSCM
 - C) TOP09
- 13) Πόσο είναι ο ελάχιστος μισθός στην Τσεχία σε ευρώ (2018):
 - A) 330



Co-funded by the
Erasmus+ Programme
of the European Union

- B) 823
C) 488
- 14) Στα πιο δημοφιλή προϊόντα της Τσεχίας συγκαταλέγονται (επιλέξτε):
A) Γυαλί και πορσελάνη
B) Μπύρα π.χ. Budvar, Plzen
C) Λικέρ Becher από βότανα
- 15) Η σημαντικότερη αυτοκινητοβιομηχανία στην Τσεχία είναι:
- 16) Την επικρατούσα θέση στην Τσεχία έχει η _____ Εκκλησία
- 17) Το συχνότερα χρησιμοποιούμενο σύμβολο στη χριστιανική πίστη είναι (επιλέξτε):
A) ροζάριο
B) σταυρός
Γ) Βίβλος
- 18) Ποιος φέρνει τα δώρα στην Τσεχία τα Χριστούγεννα (συμπληρώστε);

- 19) Η σημαντικότερη χριστιανική εορτή είναι _____
- 20) Την Κυριακή του Πάσχα ακολουθούνται κυρίως έθιμα:
A) παραδοσιακά / παγανιστικά
B) χριστιανικά
- 21) Το ποσό του γονεϊκού επιδόματος στην Τσεχία είναι _____ και το ποσό αυτό μπορεί να συλλεχθεί μέχρι _____ (συμπληρώστε την ηλικία του παιδιού)
- 22) Αντιστοιχίστε τις εορτές της Τσεχίας με τις σωστές ημερομηνίες:
- | | |
|--|-------|
| Ημέρα Νίκης | 28/10 |
| Ημέρα Κύριλλου και Μεθόδιου | 24/12 |
| Ημέρα Καύσης Πατέρα John Hus | 8/5 |
| Ημέρα Τσεχικού κράτους | 6/7 |
| Ημέρα ανεξαρτησίας Τσεχοσλοβακίας | 1/5 |
| Ημέρα αγώνα για ελευθερία και δημοκρατία | 25/12 |
| Παραμονή Χριστουγέννων | 5/7 |
| Χριστούγεννα | 17/11 |
| Ημέρα Εργαζομένων | 28/9 |
- 23) Είναι δυνατόν να κλείσει μια καταχωρημένη συνεργασία στην Τσεχία;
A) ΝΑΙ
B) ΟΧΙ

- 24) Να αναφέρετε τουλάχιστον 4 παράγοντες – συμπεριφορές με αρνητική επίδραση στην υγεία: _____, _____, _____, _____
- 25) Πόσα χρόνια διαρκεί η βασική / υποχρεωτική σχολική παρακολούθηση στην Τσεχία; _____
- 26) Η τριτοβάθμια εκπαίδευση στην Τσεχία πραγματοποιείται σε 3 στάδια (συμπληρώστε): _____, _____, _____
- 27) Ονομάστε 3 παραδοσιακά πιάτα της Τσεχικής κουζίνας
_____, _____, _____
- 28) Ονομάστε τουλάχιστον 2 εθνικά σπορ της Τσεχίας
_____, _____
- 29) Ποιο είναι το μέσο προσδόκιμο ζωής στην Τσεχία;
A) 79 έτη
B) 82 έτη
C) 75 έτη
- 30) Ποιο κορίτσι στη φωτογραφία φοράει παραδοσιακή φορεσιά της Τσεχίας (Μοραβίας);



A



B



C