

Pracovní list

Česká republika







Obecná část:

1) Doplněte názvy států, se kterými státy sousedí ČR.



A	
B	
C	
D	

2) Doplněte názvy státních symbolů ČR.

		
A	B	C
		
D	E	F



Co-funded by the
Erasmus+ Programme
of the European Union

3) Které pohoří neleží na území České republiky?

A	Alpy	B	Krušné hory	C	Krkonoše
D	Šumava	E	Tatry	F	Jeseníky

4) Na jaká tři území se, z historického hlediska, dělí ČR?
.....

5) Vyberte jméno nejvýznamnějšího panovníka v českých dějinách.

A	Karel IV.	B	Václav IV	C	Jan Lucemburský
---	-----------	---	-----------	---	-----------------

6) Ve kterém roce začala okupace ČR německou armádou?

7) Revoluce, která svrhla komunistický režim v ČR, se nazývá:

A	Saténová revoluce	B	Sametová revoluce	C	Plyšová revoluce
---	-------------------	---	-------------------	---	------------------

8) Jaká významná událost se stala 1. 1. 1993?

9) Které dvě komory tvoří parlament ČR?

10) Výkonná moc v ČR je rozdělena mezi (vyberte):

- A. Prezidenta republiky a Senát
- B. Prezidenta republiky a Parlament
- C. Prezidenta republiky a vládu

11) Prezident ČR je volen na období (vyberte):

A	4 roky	B	5 let	C	6 let
---	--------	---	-------	---	-------



Co-funded by the
Erasmus+ Programme
of the European Union

12) Mezi levicové politické strany nepatří (vyberte):

A	ODS	B	KSČM	C	TOP09
---	-----	---	------	---	-------

13) Jak velká je minimální mzda v ČR od roku 2018?

A	330 €	B	823 €	C	488 €
---	-------	---	-------	---	-------

14) Mezi nejznámější produkty ČR patří (vyberte):

A	sklo a porcelán	B	pivo - Budvar, Plzeň	C	bylinný likér Becherovka
---	-----------------	---	----------------------	---	--------------------------

15) Nejvýznamnějším automobilovým podnikem v ČR je.....

16) Dominantní postavení v ČR má církev.....

17) Nejčastěji užívaným symbolem křesťanské víry je (vyberte):

A	růženec	B	kříž	C	bible
---	---------	---	------	---	-------

18) Spojte jednotlivé uznávané svátky v ČR se správnými daty:

Den vítězství	28. 10.
Den slovanských věrozvěstů Cyrila a Metoděje	24.12.
Den upálení mistra Jana Husa	8. 5.
Den české státnosti	6. 7.
Den vzniku samostatného československého státu	1. 5.
Den boje za svobodu a demokracii	25.12.
Štědrý den	5. 7.
První svátek vánoční	17. 11.
Svátek práce	28. 9.



Co-funded by the
Erasmus+ Programme
of the European Union

19) V ČR nosí na Vánoce dárky pod stromeček (doplňte):

20) Nejvýznamnější křesťanský svátek se nazývá:

21) Velikonoční pondělí je dnem, kdy se více dodržují (vyberte):.....

A	lidové zvyky	B	křesťanské oslavy
---	--------------	---	-------------------

22) Celková výše částky rodičovského příspěvku v ČR je.....a tuto částku lze čerpat nejdéle do let věku dítěte (doplňte).

23) Je možné v ČR uzavřít registrované partnerství:

A	ANO	B	NE
---	-----	---	----

24) Mezi faktory nejvíce poškozující zdraví Čechů patří především (doplňte alespoň 4 faktory):

.....
.....
.....
.....

25) Jak dlouhá je v ČR povinná školní docházka? Doplňte počet let:

26) Vysokoškolské vzdělávání v ČR je realizováno ve třech stupních (doplňte):.....

.....

27) Vyjmenujte 3 tradiční pokrmy české kuchyně:

.....

28) Vyjmenujte alespoň dva české národní sporty:

.....

29) Jaká je průměrná naděje dožití obyvatele ČR?

A	79 let	B	82 let	C	75 let
---	--------	---	--------	---	--------

30) Která dívka na obrázku má tradiční český (moravský) kroj?



A



B



C